

平成26年度

藤蔭高等学校 前期入学試験問題

社 会 (45分)

試験開始の合図があるまで、この「問題」を開かず、下記の注意事項をよく読んでください。

注 意 事 項

1. 試験中は、わき見をしたり、勝手に話をしてはいけません。道具の貸し借りもしてはいけません。不正行為のないように注意してください。
2. 試験中の途中退場はできません。
3. 試験中、気分が悪くなった人は、黙って手をあげてください。
4. 問題用紙と解答用紙は別々の用紙です。答は解答用紙に書いてください。解答用紙には受験番号と氏名をはっきり書いてください。
5. 問題に脱落や印刷の不鮮明な部分などがあったら、黙って手をあげてください。
6. 試験が終わったら、解答用紙は裏にして机の上に置いてください。問題用紙は持ち帰ってください。

受 験 番 号	氏 名

【4】 次の文を読んで、各問いに答えなさい。

あゆみさんのクラスでは、社会科の時間におこなったグループ活動について、グループで調べたことをまとめて発表会をしました。あゆみさんはそれぞれのグループの発表を聞いて身近な社会の状況や課題を知ることができ、また考えることができました。

A班は、地方自治について発表しました。問1～問4に答えなさい。

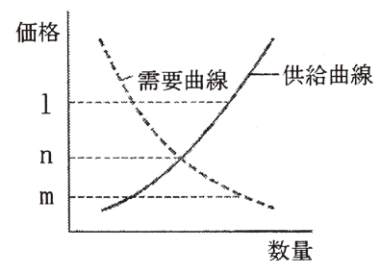
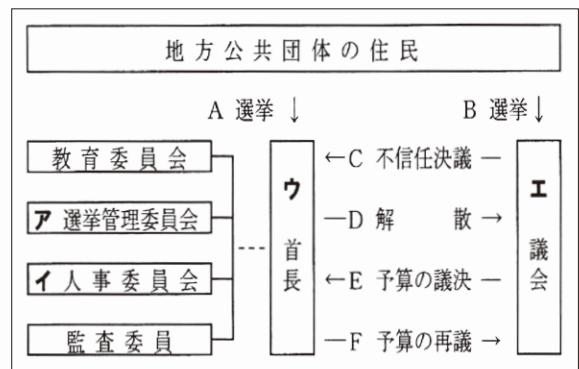
問1 図I中のA～Fのうち、国の政治のしくみには取り入れられていないもので、地方公共団体にだけ取り入れられているものを2つ選び、記号で答えなさい。

問2 図I中のC、Dは、首長と議会との間に相互の抑制と均衡の関係を持たせる政治のしくみの1つである。このような権力分立の考え方を「法の精神」に著した

問3 地方自治法では、地方公共団体の条例の制定または改廃、議会の解散などを求める権利について規定している。これらの権利を総称して何と

問4 地方自治法では、条例の制定または改廃は、図I中のア～エの機関のうち、どこに求めることができると

図I



問7 C班では今後の高齢社会の課題をあげてみた。次のア～エのうち誤っているものを1つ選び、記号で答えなさい。

- ア. 増大する医療費など福祉のための資金を、誰が、どのように負担するのか。
- イ. 働く高齢者が増えるので、年金制度をどのようになくしていくのか。
- ウ. 介護を必要とする高齢者が増えるので、介護保険制度をどのように充実させていくのか。
- エ. 高齢者が住み慣れた地域で暮らすためには、どのように社会福祉を充実させるのか。

D班は、裁判所で裁判の傍聴をした。問8と問9に答えなさい。

問8 D班が傍聴した裁判は、犯罪行為について有罪・無罪を決定する裁判だった。このような裁判を何というか。漢字で答えなさい。

問9 日本の裁判では三審制がとられている。その理由として正しいものを、次のア～エから1つ選び、記号で答えなさい。

- ア. 迅速に裁判を行い、裁判にかかる時間を少なくするため。
- イ. 何度も裁判をすることで、多くの裁判官に経験を積ませるため。
- ウ. 慎重に裁判を行い、当事者の人権を守るため。
- エ. 正確な判断をして、裁判にかかる費用を少なくするため。

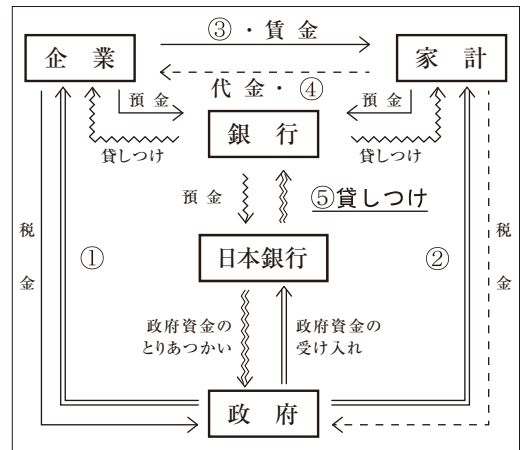
問10 E班は、金融のしくみや家計・企業・政府の関係について学んだ。IとIIに答えなさい。

I 図II中の①～④に適する語句の組み合わせとして正しいものを、次のア～エから1つ選び、記号で答えなさい。

- ア. ① 公共サービス ② 総選挙 ③ 労働力 ④ 商品
- イ. ① 公共サービス ② 公共事業 ③ 商品 ④ 労働力
- ウ. ① 公共事業 ② 公共サービス ③ 商品 ④ 労働力
- エ. ① 公共事業 ② 総選挙 ③ 労働力 ④ 商品

II 図II中の⑤貸しつけに対する利率を何というか。漢字4字で答えなさい。

図II (国民経済と銀行の働き)



【1】A

問1		問2		問3	問4	問5
問6	問7	問8		問9		
		燃料				

B

問1	問2	問3		問4	問5	問6
		農業				
問7		問8				
産業		県				

【2】

問1		問2	問3	問4	問5	
大陸					I	II
問6	問7	問8		問9	問10	

【3】

問1	問2		問3	問4	問5

【4】

問1		問2		問3	問4
問5	問6		問7	問8	問9
	I	II		裁判	
	価格				
問10					
I	II				

受験番号	氏名

合計点	
-----	--